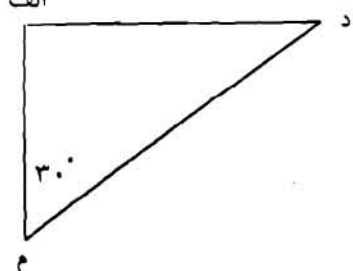


۰/۵	۱ - واحد اندازه گیری کشور ایران کدام است؟ الف) هکتار ب) کیلومتر مربع ج) متر د) کیلومتر
۰/۵	۲ - کدامیک از اعداد زیر هم بر ۹ و هم بر ۳ بخش پذیر است؟ الف) ۳۷۹ ب) ۱۷۹ ج) ۴۴۸ د) ۷۳۸
۰/۵	۳ - کسر $\frac{۸۸}{۳}$ مساوی کدام عدد مخلوط است؟ الف) $۲۸\frac{۳}{۱}$ ب) $۲۹\frac{۳}{۱}$ ج) $۲۹\frac{۱}{۳}$ د) $۲۸\frac{۱}{۳}$
۰/۵	۴ - در کدامیک از شکل های هندسی زیر، قطرها خط تقارن می باشد الف) لوزی ب) مستطیل ج) دوزنقه د) متوازی الاضلاع
۰/۵	۵ - ۲ ساعت ۴۲ دقیقه برابر است با ۱۶۲ دقیقه: ص غ
۰/۵	۶ - ربع عدد ۶۰ برابر است با ۱۲: ص غ
۰/۵	۷ - داروهای مایع را با واحدی به نام سی سی اندازه گیری می کنند. ص غ
۱	۸ - به عدد و حروف بنویسید. سه میلیارد و بیست و پنج میلیون و هفت هزار ۲۰۳/۰۴
۱	۹ - با توجه به شکل اندازه ی زاویه (د) را حساب کنید. الف 

۱۰ - کتابی ۲۴۰ صفحه دارد. رضا $\frac{4}{5}$ آن را خوانده است. چند صفحه خوانده و چند صفحه نخوانده است.

۲

۱۱ - در جای خالی عدد مناسب بنویسید.

(ب) 20000 متر مربع = هکتار

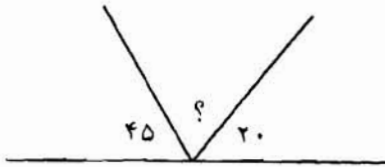
(الف) 78 کیلوگرم = گرم

(د) $0/08$ ساعته متر = متر

(ج) $0/5$ لیتر = سی سی

۱

۱۲ - اندازه زاویه‌ای که با علامت «؟» مشخص شده است را بدست آورید.



۱

۱۳ - مخزن آبی به شکل مکعب مستطیل به ابعاد 3 ، $2/5$ ، 7 متر می‌باشد. گنجایش این مخزن چند لیتر است؟

۰/۷۵

۱۴ - در جای خالی علامت $< > =$ بگذارید.

$0/25$ $0/025$

زاویه قائمه زاویه راست

$3\frac{1}{2}$ $\frac{7}{2}$

۲

۱

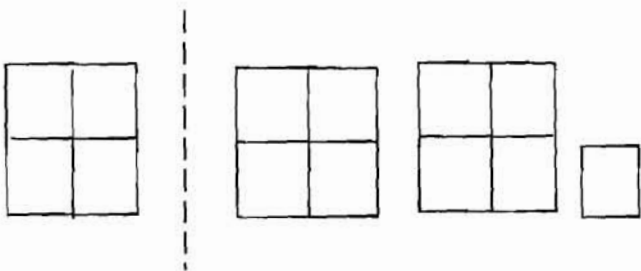
۱۵ - دبستانی در منطقه گلپهار 400 دانش‌آموز دارد. 20% دانش‌آموزان این دبستان در اردو شرکت کرده‌اند. چند نفر در دبستان مانده‌اند؟

۱

۱۶ - با توجه به واحد برای شکل یک عدد مخلوط و یک کسر بزرگتر از واحد بنویسید.

کسر بزرگتر از واحد:

عدد مخلوط:



۱۷ - حاصل عبارت‌های زیر را به ساده‌ترین صورت بنویسید.

$$4\frac{1}{5} + 3\frac{3}{7} =$$

$$8 - 2\frac{3}{4} =$$

$$2/8 \times 0.09 =$$

$$3 \div 1\frac{4}{8} =$$

۱/۷۵

۱۸ - حسین ساعت ۸:۱۸:۳۵ از منزل خارج و ساعت ۱۲ به منزل برگشت او چه مدت بیرون از خانه بوده است.

۱

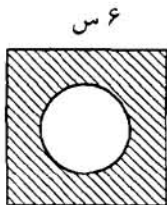
۱۹ - میانگین (معدل) سه عدد $17/25$ ، $14/75$ ، 19 را بدست آورید.

۱

۲۰ - مجموع دو قاعده‌ی ذوزنقه‌ای 120 سانتی‌متر و ارتفاع آن 40 سانتی‌متر است. مساحت این ذوزنقه را حساب کنید.

۱/۵

۲۱ - مساحت قسمت رنگی را بدست آورید؟ (شعاع 2 سانتی‌متر)



۰/۵

۲۲ - کسر مساوی با هر یک از عددهای اعشاری زیر را بنویسید.

$$0.23 =$$

$$4/135 =$$

الف - پاسخ درست را در مربع علامت × بگذارید.

- ۰/۵ ۱ - کدام یک از موارد زیر تغییر فیزیکی است؟
الف) پختن نان ب) زنگ زدن آهن ج) زرد شدن برگ گیاهان د) بخار شدن آب
- ۰/۵ ۲ - کدام یک از موارد زیر ترکیب می باشد؟
الف) طلا ب) اکسیژن ج) نمک د) آهن
- ۰/۵ ۳ - کدام یک از وسایل برقی خانه ی شما موتور الکتریکی دارد؟
الف) پنکه ب) اتو ج) سماور برقی د) مهتابی
- ۰/۵ ۴ - کدام عامل باعث فرسایش خاک می شود؟
الف) سیل ب) زلزله ج) رانش زمین د) هر سه مورد
- ۰/۵ ۵ - کدام مورد جزء چشمه های اصلی نور نیست.
الف) خورشید ب) ماه ج) رعد و برق د) کرم شب تاب
- ۰/۵ ۶ - موادی که میکروب ها را در بیرون از بدن می کشند چه نام دارند؟
الف) آنتی بیوتیک ها ب) ضد عفونی کننده ها ج) واکسن د) مخاط
- ۰/۵ ۷ - چه دلایلی ممکن است باعث خوب نشیدن صدا شوند؟
الف) سنگینی گوش ب) پاره شدن پرده ی گوش ج) ضعیف بودن صدای صحبت کننده د) همه ی موارد
- ۰/۵ ۸ - کدام مورد جزء منابع جبران شدنی هستند؟
الف) نفت ب) گاز ج) اکسیژن د) خاک

ب - جاهای خالی را پر کنید.

- ۰/۵ ۹ - به وسایلی مانند اهرم، سطح شیب دار که انجام دادن کارها را برای ما آسان می کنند می گویند.
- ۰/۵ ۱۰ - از جلبک های دریایی موادی به دست می آید که در صنعت از آنها استفاده می شود
- ۰/۵ ۱۱ - برای حس کردن مزه ی یک خوراکی لازم است مولکول های آن در حل شود
- ۰/۵ ۱۲ - به مجسوع افراد یک نوع از جان داران که در جای خاصی زندگی می کنند می گویند

ج - جمله صحیح و یا غلط را با علامت X مشخص کنید.

- ۰/۵ ص غ ۱۳ - هر چه فاصله‌ی بین تکیه‌گاه و جسم در اهرم بیشتر باشد برای جابجایی جسم نیروی کمتری نیاز است.
- ۰/۵ ص غ ۱۴ - اگر هنگام زلزله در خیابان هستیم برای حفظ جان خود به زیر پل عابر پیاده می‌رویم.
- ۰/۵ ص غ ۱۵ - کپک نوعی باکتری است که میوه یا چیزهای دیگر را تجزیه می‌کند.
- ۰/۵ ص غ ۱۶ - پوست بدن علاوه بر محافظت بدن در برابر میکروب در حس فشار و درد به ما کمک می‌کند.

د - به سوالات زیر پاسخ دهید.

- ۱ ۱۷ - چرا مولکول‌های عطر در هوا پراکنده می‌شوند اما مولکول‌های آهن در هوا پراکنده نمی‌شوند؟
.....
- ۲ ۱۸ - ماشین‌ها نیروی خود را از کجا می‌گیرند؟
.....
- ۱ ۱۹ - کانون عدسی چیست؟
.....
- ۱ ۲۰ - چه عواملی در تشکیل خاک مؤثر هستند؟ دو مورد
.....
- ۲ ۲۱ - آتش فشان چگونه تشکیل می‌شود؟
.....
- ۱ ۲۲ - واکسن چیست؟
.....
- ۲ ۲۳ - برای مراقبت از چشم به چه نکاتی باید عمل کرد؟ ۲ مورد
.....
- ۲ ۲۴ - دو مورد از عوامل افزایش دهنده‌ی جمعیت را بنویسید.
.....

اداره آموزش و پرورش منطقه گلپهار

نام:

کارشناسی سنجش و ارزشیابی تحصیلی

نام خانوادگی:

سئوالات امتحان هماهنگ پنجم ابتدایی

نام آموزشگاه:

درس: تاریخ و مدنی

تاریخ امتحان: ۹۰/۳/۷

مدت امتحان: ۶۰ دقیقه

ساعت شروع: ۹ صبح

تعداد صفحات: ۳ تعداد سئوال: ۲۹

الف - گزینه درست را با علامت (X) مشخص کنید.

- ۰/۵ ۱ - دین اسلام از کدام سرزمین طلوع کرد؟
 الف - عراق ب - ایران ج - عربستان د - شام
- ۰/۵ ۲ - سر دسته‌ی مخالفان پیامبر (ص) در مکه که بود؟
 الف - یزید ب - ابوسفیان ج - معاویه د - عمر و عاص
- ۰/۵ ۳ - کدام یک از وقایع زیر مبدا تاریخ مسلمانان شد؟
 الف - ولادت پیامبر (ص) ب - بعثت پیامبر (ص) ج - هجرت پیامبر (ص) د - رحلت پیامبر (ص)
- ۰/۵ ۴ - کدام پادشاه قاجار مجلس را به توپ بست؟
 الف - ناصرالدین شاه ب - محمد علی شاه ج - مظفرالدین شاه د - فتحعلی شاه
- ۰/۵ ۵ - چه کسی مدرسه‌ی دارالفنون را تأسیس کرد؟
 الف - کریم خان زند ب - دکتر مصدق ج - امیرکبیر د - ناصرالدین شاه
- ۰/۵ ۶ - پایتخت نادرشاه افشار کدام شهر بود؟
 الف - مشهد ب - تهران ج - شیراز د - اصفهان
- ۰/۵ ۷ - رضاخان با حمایت کدام کشور به حکومت رسید؟
 الف - روسیه ب - آمریکا ج - فرانسه د - انگلستان
- ۰/۵ ۸ - انقلاب اسلامی ایران در چه تاریخی به پیروزی رسید؟
 الف - ۱۵ خرداد ۱۳۴۲ ب - ۱۵ خرداد ۱۳۵۷ ج - ۲۲ بهمن ۱۳۵۷ د - ۱۲ بهمن ۱۳۵۷

ب - صحیح یا غلط بودن جملات زیر را با علامت (X) مشخص کنید.

- ۰/۵ ۹ - در حکومت استبدادی از اختیارات شاه کم شد. صحیح غلط
- ۰/۵ ۱۰ - شاه اسماعیل مذهب شیعه را مذهب رسمی کشور اعلام کرد. صحیح غلط
- ۰/۵ ۱۱ - کریم خان زند لقب وکیل الرعایا را برای خود انتخاب کرد. صحیح غلط

ج - جملات زیر را کامل کنید.

- ۰/۵ ۱۲ - مهمترین کار پیامبر در مدینه تشکیل بود.
- ۰/۵ ۱۳ - حضرت علی (ع) در سال چهارم هجری به دست به شهادت رسید.
- ۰/۵ ۱۴ - مغول‌ها به فرماندهی به ایران حمله کردند.

د - به سئوالات زير پاسخ دهيد.

۱۵ - دو دليل اهميت شهر مکه قبل از ظهور اسلام چه بود؟

۱۶ - دو علت شکست ايران در جنگ با روسيه را بنويسيد.

۱۷ - امام حسين (ع) درباره‌ی علت هجرت خود چه فرمايد؟

۱۸ - ملی شدن صنعت نفت ايران به رهبری چه کسانی صورت گرفت؟

۱۹ - نام دو سلسله ترک که در ايران حکومت می‌کردند را بنويسيد.

مدنی

الف - پاسخ صحيح را با علامت (X) مشخص كنيد.

۱ - بالاترين درجه ايشار کدام است؟

الف - فداکاری ب - شهادت ج - اتفاق د - تعاون

۲ - مهمترين وظيفه حکومت در جمهوری اسلامی کدام است؟

الف - نگرهبانی از استقلال ب - بهبود زندگی مردم
ج - پاسداری از اسلام و اجرای قوانین اسلامی د - گسترش آموزش و پرورش

۳ - درباره کدام مسئله می‌توان از طریق شورا تصمیم گرفت؟

الف - روزه گرفتن ب - نماز خواندن ج - ازدواج د - تغيير قبله

ب - جملات زير را کامل كنيد.

۴ - مهمترين قانون هر کشور قانون است.

۵ - در جامعه‌ی اسلامی رابطه افراد مانند رابطه با یکدیگر است.

ج - به سئوالات زير پاسخ دهيد.

۶ - معنی استقلال را بنويسيد.

۷ - انقلاب اسلامی ما بر چه پایه‌هایی استوار است؟

اداره آموزش و پرورش منطقه گلپهار

کارشناسی سنجش و ارزشیابی تحصیلی

سئوالات امتحان هماهنگ پنجم ابتدایی

درس: جغرافی

نام:

نام خانوادگی:

نام آموزشگاه:

تاریخ امتحان: ۹۰/۳/۹

مدت امتحان: ۴۰ دقیقه

ساعت شروع: ۹ صبح

تعداد صفحات: ۲ تعداد سئوال: ۲۸

الف) صحیح یا غلط بودن عبارات را با علامت (X) در داخل □ مشخص کنید.

- ۱ - کشت دیم محتاج به آبیاری می باشد. صحیح غلط ۰/۲۵
- ۲ - بزرگترین مدار خط استوا می باشد صحیح غلط ۰/۲۵
- ۳ - پایتخت ارمنستان شهر باکو است. صحیح غلط ۰/۲۵
- ۴ - ترکیه و عراق همسایه های غربی ایران هستند. صحیح غلط ۰/۲۵

ب) پاسخ صحیح را با علامت X در داخل □ مشخص کنید.

- ۵ - مرکز استان فارسی چه شهری است؟
الف) بوشهر زاهدان شیراز اهواز ۰/۵
- ۶ - بزرگترین شهر و بندر بازرگانی پاکستان کدام شهر است؟
الف) پیشاور ب) کراچی ج) لاور د) راولپندی ۰/۵
- ۷ - بیابان وسیع ترکمنستان چه نام دارد؟
الف) قره قوم ب) قفقاز ج) تجن د) عشق آباد ۰/۵
- ۸ - کدام محصول زیر به رطوبت فراوان نیاز دارد؟
الف) گندم ب) پسته ج) پنبه د) چای ۰/۵
- ۹ - مدت زمان حرکت چرخشی زمین به دور خودش چه قدر طول می کشد؟
الف) یک هفته ب) یک شبانه روز ج) یک سال د) یک ماه ۰/۵
- ۱۰ - کدام رود تمام مسیرش در داخل ترکیه می باشد؟
الف) قزل ایرماق ب) فرات ج) دجله د) تجن ۰/۵
- ۱۱ - پایتخت کشور آذربایجان شهر..... است.
الف) عشق آباد ب) ایروان ج) باکو د) نخجوان ۰/۵
- ۱۲ - کدام یک از محصولات زیر از ایران به کشور دیگر صادر می شود؟
الف) پنبه ب) چای ج) خرما د) برنج ۰/۵

ج) جملات زیر را با کلمات مناسب کامل کنید؟

- ۱۳ - به خشکی های وسیع کوهی زمین..... می گویند. ۰/۵
- ۱۴ - پهناورترین قاره جهان..... است ۰/۵

۰/۵

۱۵ - قله اورست در رشته کوه..... قرار دارد.

۰/۵

۱۶ - صنایع مهم افغانستان..... و..... می باشد.

(د) به پرسشهای زیر پاسخ دهید؟

۱

۱۷ - مرکز هر استان چگونه جایی است؟

۱

۱۸ - دو دلیل اهمیت شهر باکو را بنویسید؟

۱

۱۹ - دو صنعت مادر را نام ببرید؟

۱

۲۰ - منظور از بیلاق و قشلاق چیست؟

۱/۵

۲۱ - مهم ترین منابع گاز ایران در کدام استانها قرار دارد؟

۱

۲۲ - دو دلیل افزایش جمعیت در یک منطقه را بنویسید.

۰/۷۵

۲۳ - سه شهر مذهبی عراق را نام ببرید؟

۱

۲۴ - نصف النهار را تعریف کرده و مهم ترین نصف النهار چه نام دارد؟

۰/۷۵

۲۵ - سه قاره ای که به همدیگر نزدیک اند را نام ببرید؟

۱

۲۶ - چرا در کوهپایه ها جمعیت بیشتری زندگی می کنند؟

۱

۲۷ - نتیجه حرکت انتقالی زمین به دور خورشید چیست و چه مدت طول می کشد

۲

۲۸ - جدول را کامل کنید.

رود مهم	زبان	محصول مهم کشاورزی	مرکز	ترکمنستان

بِسْمِ اللَّهِ الرَّحْمَنِ الرَّحِيمِ

اداره آموزش و پرورش منطقه گلپهزار

کارشناسی سنجش و ارزشیابی تحصیلی

پاسخنامه سئوالات امتحان هماهنگ پنجم ابتدایی

درس: املاء فارسی

الهي عنایت تو کوه است و فضل تو دریا کوه کی فرسود و دریا کی کاست .

دایرة المعارف کتاب بزرگی است که ما می توانیم هر نوع اطلاعات علمی، ادبی، هنری، تاریخی جغرافیایی و جز این ها را در آن بیابیم .

ریشه ی اصلی ترس های نادرست، در جهل و نادانی است . بعضی از تاریکی می ترسند و شب و تاریکی را پر از اشباح و پدیده های ترسناک می دانند .

چه دوست داشتنی و عزیزند آنان که برای آرامش دیگران از آرامش خویش می گذرند .

خلیفه به آن مرد در نزدیکی دروازه ی بغداد چند قطعه زمین بخشید . مرد بر زمین های خود کار می کرد و از ثروت خویش به نیازمندان می بخشید .

انسان هیچ گاه از کنجاوی و تکاپو دست نمی کشد او می خواهد همه چیز را بداند و به راستی چه رنج ها و خطر هایی را برای دانستن تحمل می کند .

پس چون نوح را روزگار بر آمد و رنج بسیار شد و صبر نماند دعا کرد بر قوم خویش به هلاک .

سرود ملی تنها شعر نیست بلکه موسیقی و آهنگ نیز دارد . موسیقی آن معمولاً " بسیار گرم و هیجان انگیز است .

طبیعت زیبای ایران در هر فصلی تماشایی است دشت های پر از شقایق فصل بهار، قلّه های سپید و

مغرور زمستانی جنگل های سبز تابستانی و شاخه های سرشار از میوه های پاییزی .

خدایا به ما جان های پاک دل های پر از امید و نشاط و اندیشه های روشن عنایت فرما .

«باسمه تعالی»

اداره آموزش و پرورش منطقه گلپهار

نام:

تاریخ امتحان: ۹۰/۳/۴

کارشناسی سنجش و ارزشیابی تحصیلی

نام خانوادگی:

مدت امتحان: ۶۰ دقیقه

سئوالات امتحان هماهنگ پنجم ابتدایی

نام آموزشگاه:

ساعت شروع: ۹ صبح

درس: انشاء فارسی

تعداد صفحات: ۲ تعداد سئوال: ۱۲

۰/۵ ۱ - شعر بوی نرگس از کدام شاعر است.
الف) قیصر امین پور ب) بیوک ملکی ج) ملک الشعراء بهار د) محمود کیانوش

۰/۵ ۲ - گفتگوی شخصیت‌های داستان را با هم..... می‌گویند.
الف) متن ب) دیالوگ ج) سخنرانی د) هیچ کدام

۰/۵ ۳ - به دایرة المعارف..... یا..... نیز می‌گویند.

۱ ۴ -
الف) ماه..... آغاز سال قمری است و با گردش..... به دور زمین سنجیده می‌شود.
ب) ماه..... آغاز سال شمسی است و با گردش..... به دور خورشید سنجیده می‌شود.

۰/۵ ۵ - و..... از بزرگترین شاعران غزل سرای ایران هستند.

۰/۵ ۶ - داستان یک بیمارستان در مورد زندگی کدام دانشمند بزرگ ایران می‌باشد.
الف) ابوعلی سینا ب) دکتر حسابی ج) محمد بن زکریای رازی د) دکتر معین

۱/۵ ۷ - در عبارت روبرو نهاد و گزاره را مشخص کنید.
دانش‌آموزان دبستان شهید براتی سرآسیاب به اردوی تفریحی رفتند.

نهاد	گزاره

۲ ۸ - با توجه به متن جدول را کامل کنید.
دانش‌آموز زرنگ قبل از امتحان، کتاب علی را مطالعه خواهد کرد.

موصوف و صفت	مضاف و مضاف الیه	مفعول	زمان فعل

